

山梨県警察官採用試験A（第1回）例題等

- 例題及び正答番号 警察官A 教養試験 1

- 論文課題出題例 4

警察官 A 教養試験問題

日本におけるキャッシュレス決済に関する次の文中の下線部分ア～エのうちには妥当なものが二つある。それらはどれか。

キャッシュレス決済手段には、クレジットカード、交通系電子マネーなどの電子マネー、スマートフォン決済など、様々な手段がある。このうち、クレジットカードは、最近ではICチップを内蔵したものが多くなっている。店舗での取引においてICチップ内蔵のクレジットカードを利用する際には、ア暗証番号の入力と伝票へのサインの両方を必ず求められる。また、スマートフォン決済にはバーコードや二次元コードを活用するコード決済があり、コード決済では、イ店舗側が提示したコードを消費者が読み取るか、消費者が提示したコードを店舗側が読み取る。

2019年10月、消費税率引上げと同時に、政府による期間限定のキャッシュレス・ポイント還元事業（キャッシュレス・消費者還元事業）が始まった。この還元事業の対象となったキャッシュレス決済手段は、ウクレジットカード、電子マネー、スマートフォン決済などである。また、還元事業の対象となった店舗には、エ大手スーパーマーケット、百貨店は含まれたが、中小・小規模事業者の店舗は含まれなかった。

1. ア, ウ
2. ア, エ
3. イ, ウ
4. イ, エ
5. ウ, エ

〔正答 3〕

警察官 A 教養試験問題

太陽の南中に関する次の文中のア、イに入るものがいずれも妥当なのはどれか。

山口県の下関市は北緯34度，東経131度付近に位置しており，新潟県の新潟市は北緯38度，東経139度付近に位置している。

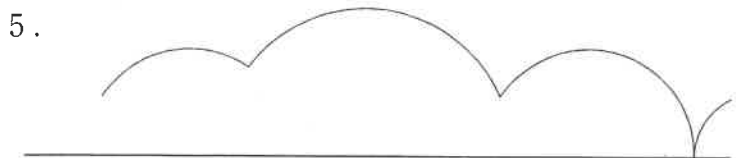
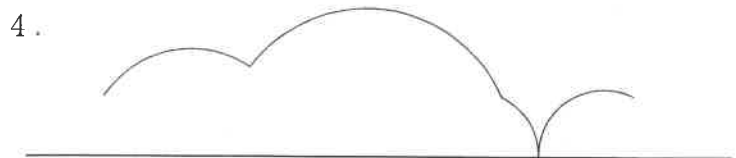
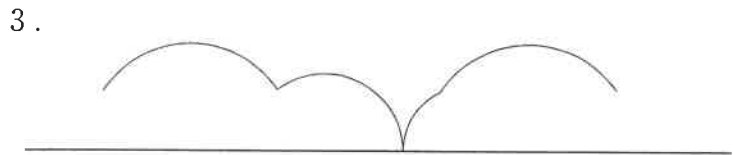
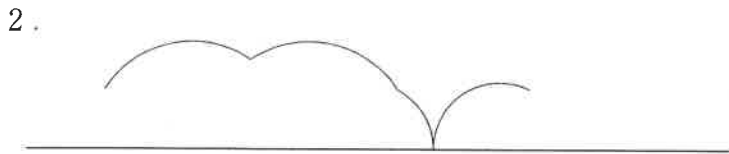
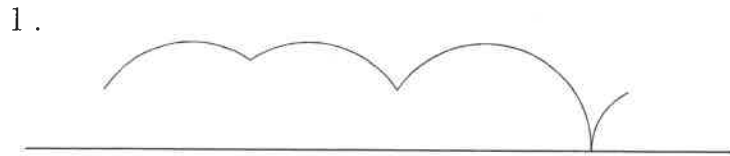
この2都市において，同じ日に太陽の動きを観察すると，下関市の方が新潟市に比べて，南中高度は 高く，南中時刻は 。

- | | ア | イ |
|----|-----|--------|
| 1. | 約4度 | 約16分早い |
| 2. | 約4度 | 約32分遅い |
| 3. | 約4度 | 約48分遅い |
| 4. | 約8度 | 約32分早い |
| 5. | 約8度 | 約48分遅い |

[正答 2]

警察官 A 教養試験問題

図のように、台形が直線上を滑ることなく矢印の方向に1回転したとき、台形の辺上の点Pが描く軌跡として妥当なのはどれか。



[正答 2]

警察官 A

○ 論文課題出題例

あなたが考える警察官という職業の魅力について志望動機を踏まえて述べるとともに、将来、どのような警察官になりたいと考えているか述べなさい。