

令和3年度採用 山梨県公立学校教員選考検査

## 中学校 社会

1 中華人民共和国（中国）、大韓民国（韓国）、ベトナム、フィリピンの4か国に関して、次の（1）～（6）に答えよ。

- （1） 次の①～④の各文は、4か国についてそれぞれ述べている。各文に当てはまる国名をそれぞれ記せ。また、文中の（ a ）に当てはまる略称をアルファベットで、（ b ）～（ d ）に当てはまる語句をそれぞれ記せ。

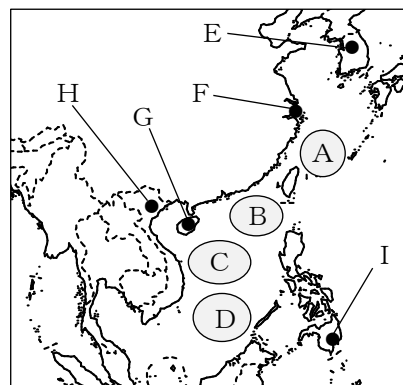
① 1960年代から外国企業や外国資本を積極的に受け入れたこの国は、急速に工業化が進み、シンガポール、台湾、香港とともにアジア（ a ）とよばれている。

② タガログ語を元にした言語と英語が公用語であるこの国は、就業人口の約22%が第一次産業に従事し、宗教は約93%の人々が（ b ）教を信仰している。

③ 第二次世界大戦後もインドシナ戦争などにより大きな被害を受けたこの国は、1986年から市場原理を導入した（ c ）政策（刷新政策）を実施し、経済成長を果たした。

④ 1970年代末から対外開放政策が始まったこの国は、シェンチェンやアモイなどの（ d ）が設定され、急速な経済発展により、「世界の工場」とよばれている。

- （2） 右の地図中には、南沙群島の領有をめぐる紛争地域が存在する。南沙群島の位置を地図中のA～Dから一つ選び、記号で記せ。また、この紛争地域に関係していない国を4か国の中から一つ記せ。



- （3） 右の地図中のE～Iは、4か国の主要都市の位置を示している。次のア～オのうち、それらの都市の位置を示す記号と都市名との組み合わせが誤っているものを2つ選び、記号でそれぞれ記せ。

ア. E・ソウル    イ. F・上海    ウ. G・香港    エ. H・ハノイ    オ. I・マニラ

- （4） 次のア～エの表は、4か国の貿易における輸出入上位5品目とその金額（2017年）を示したものである。ア～エの表のうち、ベトナムにあたるものを一つ選び、記号で記せ。

ア

輸 出		輸 入	
機械類	233 323	機械類	143 364
自動車	61 383	原 油	59 603
船 舶	40 989	精密機械	20 858
石油製品	36 000	石油製品	16 377
プラスチック	27 823	鉄 鋼	15 890
総 計	573 627	総 計	478 469

イ

輸 出		輸 入	
機械類	41 619	機械類	36 340
精密機械	2 447	自動車	8 716
野菜・果実	2 407	石油製品	5 674
銅	1 964	鉄 鋼	4 428
船 舶	1 680	原 油	3 492
総 計	68 713	総 計	101 889

ウ

輸 出		輸 入	
機械類	979 752	機械類	627 780
衣 類	157 464	原 油	163 821
繊維品	109 595	精密機械	92 158
金属製品	85 832	自動車	79 100
自動車	73 699	鉄鉱石	76 500
総 計	2 263 371	総 計	1 843 793

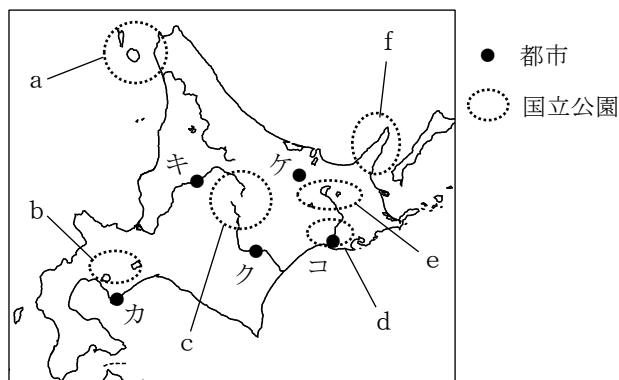
エ

輸 出		輸 入	
機械類	86 560	機械類	86 613
衣類	25 037	繊維品	14 519
はきもの	15 218	プラスチック	10 968
魚介類	8 282	鉄 鋼	9 887
精密機械	7 303	石油製品	8 009
総 計	215 119	総 計	213 215

※単位：100万ドル    ※総計：全品目の合計金額    (『世界国勢図会 2019/20』より作成)

- (5) 中国, 韓国, ベトナム, フィリピンのすべての国家が加盟している地域的な国家連合の略称を, アルファベットで記せ。
- (6) 中国では, 沿海部を中心に工業が急速に発展した。このことにより, どんな問題が生じているか, 経済と環境の視点から, 簡潔にそれぞれ記せ。

**2** 北海道の自然と農牧業について, 次の(1)～(4)に答えよ。



- (1) 次の表は, 札幌, 旭川, 釧路, 稚内の月平均気温と月降水量を示したものである。旭川と釧路に当てはまるものを, 表中のア～エからそれぞれ一つ選び, 記号で記せ。また, 旭川と釧路の位置を, 地図中のカ～コからそれぞれ一つ選び, 記号で記せ。

		1月	2月	3月	4月	5月	6月	7月	8月	9月	10月	11月	12月	全年
ア	気温	-4.7	-4.7	-1.0	4.4	8.8	12.7	16.8	19.6	16.8	11.1	3.6	-2.0	6.8
	降水量	84.3	60.7	50.3	49.0	67.6	53.0	90.6	116.0	123.5	134.1	120.9	112.8	1062.7
イ	気温	-7.5	-6.5	-1.8	5.6	11.8	16.5	20.2	21.1	15.9	9.2	1.9	-4.3	6.9
	降水量	69.6	51.3	54.0	47.6	64.8	63.6	108.7	133.5	130.9	104.3	117.2	96.6	1042.0
ウ	気温	-3.6	-3.1	0.6	7.1	12.4	16.7	20.5	22.3	18.1	11.8	4.9	-0.9	8.9
	降水量	113.6	94.0	77.8	56.8	53.1	46.8	81.0	123.8	135.2	108.7	104.1	111.7	1106.5
エ	気温	-5.4	-4.7	-0.9	3.7	8.1	11.7	15.3	18.0	16.0	10.6	4.3	-1.9	6.2
	降水量	43.2	22.6	58.2	75.8	111.9	107.7	127.7	130.8	155.6	94.6	64.0	50.8	1042.9

※気温: °C, 降水量: mm

(『理科年表 2020』より作成)

- (2) 北海道東部から東北地方にかけて発生する冷害の原因となる気団と風の名称を記せ。
- (3) 北海道には広大な湿原と丹頂鶴を保護するため, ラムサール条約に登録されている国立公園がある。その国立公園の名称を記し, 位置を地図中の a～f から一つ選び, 記号で記せ。
- (4) 次の①, ②に答えよ。
- ① 十勝平野では, 火山灰に覆われた広大な平野が広がり, 土壌の飛散を防ぐための防風林に囲まれた広い方形の耕地で, 小麦, てんさい, じゃがいも, 豆類などの輪作や牧畜を行うヨーロッパ式の農業形態が見られる。このような輪作と牧畜を組み合わせた農業形態を何というか, 記せ。
- ② 道内で最大の稲作地帯である石狩平野では, 長い間, 蛇行する石狩川が氾濫を繰り返した。また, 気温も低いため, やせた酸性の土壌である泥炭地が広く分布していた。この泥炭地を豊かな農業地帯にするため, どのような方法で土地を改良したか。大規模な排水路の整備以外の方法で, 簡潔に記せ。

3

次のA～Cの各文は、古代から近世までの日本と朝鮮半島の国々との関係を述べたものである。下の(1)～(7)に答えよ。

A 7世紀の朝鮮半島では、現在の慶州を都とする( a )が勢力を増し、儒教や仏教などで倭国と関係の深かった( b )を、唐と結んで滅ぼした。倭国は( b )を救援・復興するため朝鮮半島に大軍を送ったが、①663年に唐と( a )の連合軍に敗れた。668年に、( a )は唐と結んで( c )を滅ぼし、その後朝鮮半島を統一した。

B 14世紀後半、北九州などの武士や商人、農民、漁民が、明や高麗の沿岸を襲う②倭寇が活発化した。その後、倭寇の侵入をくいとめた( d )が高麗をたおし、国名を朝鮮と改めた。第3代国王太宗の時代には銅製の活字が盛んに鑄造・使用され、第4代国王世宗の時代には、朝鮮語の文字である( e )が発明された。

C 16世紀末の豊臣秀吉による朝鮮侵略は、日本と朝鮮の間に不幸な結果を残した。17世紀のはじめ、徳川家康は朝鮮と講和を結び、将軍の代がわりごとに③使節団が日本へ派遣されることが慣例となった。( f )藩は、その実務を担当するとともに貿易を許され、朝鮮の釜山に商館をおき、朝鮮人参や木綿などを輸入した。

- (1) Aの文中の( a )～( c )に当てはまる国名を、次のア～エから一つ選び、記号でそれぞれ記せ。なお、同じアルファベットには同じ国名が入るものとする。  
ア. 高句麗      イ. 渤海      ウ. 新羅      エ. 百済
- (2) Aの文中の下線部①の後に倭国が行った政策を、次のア～オから2つ選び、記号でそれぞれ記せ。  
ア. 唐との外交関係を樹立するために、犬上御田歙を遣唐使として派遣した。  
イ. 初めて全国的な規模の戸籍を作成し、人々の氏や姓の基礎とした。  
ウ. 中大兄皇子と中臣鎌足が蘇我蝦夷・入鹿を倒し、権力を集中した。  
エ. 九州の太宰府の北に水城や大野城を築き、唐などの進攻に備えた。  
オ. 朝鮮への救援軍派遣に反対して、筑紫国造の磐井が反乱を起こした。
- (3) Bの文中の( d )に当てはまる人物名を記せ。
- (4) Bの文中の( e )に当てはまる語句を記せ。
- (5) Bの文中の下線部②について、倭寇に悩まされた高麗は、日本に使者を送って倭寇の禁止を求めたが成功しなかった。その理由を、当時の日本の状況から簡潔に記せ。
- (6) Cの文中の( f )に当てはまる藩の名を記せ。
- (7) Cの文中の下線部③の使節団を何と呼ぶか、記せ。

4

次の文を読んで、下の(1)～(8)に答えよ。

19世紀後半までに①アフリカや東南アジアのほとんどの国が、列強の植民地にされた。19世紀末から、列強は他の列強と同盟を結び、植民地の再分割をめぐる戦争を行った。日露戦争では、日英同盟に対して、ロシアは( A )と同盟を結んでいた。②1914年にオーストリアの皇太子夫妻がセルビア人に暗殺されると、列強の対立は第一次世界大戦へと発展した。この戦争は長期化したが、その後、③アメリカの参戦やロシア革命などを経て終結に向かった。

大戦後のヨーロッパでは民主主義が進展し、ドイツではワイマール憲法によって20歳以上の男女の普通選挙権が認められた。また、各地の植民地で独立運動が活発化し、④ヨーロッパでは新興独立国が多数誕生した。中国ではヴェルサイユ条約調印反対を唱えて( B )運動が、朝鮮では( C )独立運動が起こった。インドではガンディーが非暴力・不服従運動を唱えた。戦後の戦勝国列強による国際秩序を、ヴェルサイユ体制、⑤ワシントン体制と呼ぶ。

1929年にニューヨーク株式取引所でおこった株価の大暴落をきっかけに世界恐慌となった。アメリカは恐慌対策としてニューディール政策をとり、イギリスやフランスは( D )経済をとった。その後、ドイツのポーランド侵攻により、イギリスとフランスがドイツに宣戦して、⑥第二次世界大戦が始まった。

- (1) 文中の( A )～( D )に当てはまる語句をそれぞれ記せ。
- (2) 文中の下線部①について、植民地にされずに独立を保った国の組み合わせとして正しいものを、次のア～エから一つ選び、記号で記せ。  
 ア. リビア, タイ                      イ. エチオピア, タイ  
 ウ. リビア, フィリピン              エ. エチオピア, フィリピン
- (3) 文中の下線部②について、オーストリアの皇太子夫妻が暗殺された都市名を記せ。
- (4) 文中の下線部③に関連する次の説明文の中で、誤っているものを(あ)～(う)から一つ選び、記号で記せ。また、訂正した語句を記せ。

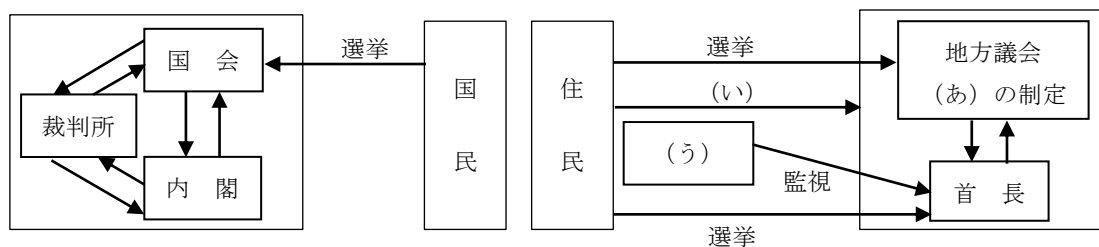
米国大統領 (あ) ウイルソンの提唱で国際連盟が誕生したが、米国は加盟しなかった。ロシアでは、(い) スターリンの指導でソビエト政府が誕生し、(う) ドイツと単独で講和をした。

- (5) 文中の下線部④に関して、第一次世界大戦後の新興独立国ではないものを、次のア～エから一つ選び、記号で記せ。  
 ア. ギリシャ      イ. ポーランド      ウ. フィンランド      エ. ラトビア
- (6) 文中の下線部⑤について説明した次のア～エのうち、誤っているものを一つ選び、記号で記せ。  
 ア. 中国の主権を尊重するための条約が結ばれた。      イ. 海軍の軍縮が決められた。  
 ウ. 山東省のドイツの利権が日本に譲渡された。      エ. 日英同盟が廃棄された。

- (7) 文中の下線部⑥に関する次の出来事を，年代の古い順に並び替え，記号で記せ。  
 ア．ミッドウェー海戦　イ．日ソ中立条約調印　ウ．ポツダム宣言　エ．イタリアの降伏
- (8) 第二次世界大戦で敗れたドイツは，大戦後，連合国の占領下に置かれた。ドイツにおける，占領下の状況とその後の冷戦下の状況を簡潔に記せ。

5

次の図は，国と地方公共団体の組織を示したものである。下の(1)～(6)に答えよ。



- (1) 図中の(あ)について，地方議会によって制定される法を記せ。
- (2) 図中の(い)について，地方公共団体の住民は，議会の解散を請求することができる。必要な署名数・請求先の組み合わせとして正しいものを，次のア～エから一つ選び，記号で記せ。  
 ア．有権者総数の50分の1以上・首長　イ．有権者総数の50分の1以上・監査委員  
 ウ．有権者総数の3分の1以上・首長　エ．有権者総数の3分の1以上・選挙管理委員会
- (3) 図中の(う)について，行政に対する苦情や救済の申し立てを処理したり，行政を監視したりする人を何というか，記せ。
- (4) 国会や地方議会は，国民や住民に関する法を制定することができる。それぞれについて述べた次のア～エの文のうち，正しいものを一つ選び，記号で記せ。  
 ア．国会では，法律案が衆議院と参議院で議決が異なった場合，両院協議会を開いても議決されなかったときには，衆議院の議決が国会の議決とされる。  
 イ．国会では，両議院の会議は公開とするが，出席議員の3分の2以上の多数で議決したときは，秘密会を開くことができる。  
 ウ．地方議会では，首長が議案を提出して地方議会が60日以内に議決しない場合は，否決されたものとされる。  
 エ．地方議会では，首長は予算の議決に異議があるとき再議を要求できるが，議会が出席議員の3分の1以上の多数の賛成で再議決すれば，その議決は確定する。
- (5) 1994年に政党助成法が成立した背景として最も適切なものを，次のア～エから一つ選び，記号で記せ。  
 ア．投票率が低下したから。　イ．国会議員が世襲されるようになったから。  
 ウ．公約が守られていなかったから。　エ．政治家の汚職事件が発生したから。
- (6) 内閣総理大臣と地方公共団体の首長の選出方法の違いについて，上の図から考えて，簡潔に記せ。

6 次の(1)～(5)に答えよ。

- (1) 新しい金融の一つであるクラウドファンディングとは何か、簡潔に記せ。
- (2) 現代の企業は、利潤を追求するだけでなく、法令の遵守や情報公開、消費者の安全、雇用の確保など、多様な役割と責任を果たすことが求められている。このことを何というか、その略称をアルファベットで記せ。
- (3) 独占禁止法に基づいて、企業を監督する行政機関の名を記せ。
- (4) 日本銀行が有価証券を金融市場で売買して、直接的に資金量の調節を図る金融政策を何というか、記せ。
- (5) 世界のすべての人々の健康水準が維持できるよう、感染症の撲滅や保健制度の強化などに取り組む国際連合の専門機関の略称をアルファベットで記せ。

7 次の文は、中学校学習指導要領「社会」の「目標」である。下の(1)～(4)に答えよ。

①社会的な見方・考え方を働かせ、課題を追求したり解決したりする活動を通して、広い視野に立ち、(ア)する国際社会に主体的に生きる平和で民主的な国家及び社会の形成者に必要な公民としての(イ)の基礎を次のとおり育成することを目指す。

- (1) 我が国の国土と歴史、現代の政治、経済、国際関係等に関して理解するとともに、  
②調査や諸資料から様々な情報を効果的に調べまとめる技能を身に付けるようにする。
- (2) 社会的事象の意味や意義、特色や相互の関連を多面的・多角的に考察したり、社会に見られる課題の解決に向けて選択・判断したりする力、思考・判断したことを(ウ)したり、それらを基に(エ)したりする力を養う。
- (3) 社会的事象について、よりよい社会の実現を視野に課題を主体的に解決しようとする(オ)を養うとともに、多面的・多角的な考察や深い理解を通して涵養される我が国の国土や歴史に対する愛情、国民権を担う公民として、自国を愛し、その平和と繁栄を図ることや、他国や他国の文化を尊重することの大切さについての(カ)などを深める。

- (1) 文中の(ア)～(カ)に当てはまる語句をそれぞれ記せ。
- (2) 文中の下線部①について、中学校学習指導要領 解説「社会編」では、どのように説明しているか。「考察」「構想」の語句を用いて、簡潔に記せ。
- (3) 文中の下線部②について、中学校学習指導要領 解説「社会編」では、どのように指導することが大切であると説明しているか、簡潔に記せ。
- (4) 各分野に配当する授業時数は何単位時間となったか、数字でそれぞれ記せ。