



こふん ひゅつげん おおまるやま
古墳の出現～大丸山古墳～

ムラの指導者はやがてまわりの人々をしたがえ、豪族とよばれる大きな力をもった支配者となります。古墳はこのような豪族のお墓です。石室とよばれる部屋にはいろいろな副葬品がおさめられています。

1 考古博物館の裏にある山の中に山梨県内で3番目に大きいとされる大丸山古墳があります。大丸山古墳から出土した下の写真のものをみつけて、見つけたら口にチェックをしましょう。そのなまえも調べてみましょう。

□



(短 甲)

□



(手 斧)

2 古墳時代にはさまざまなかたちの古墳が造られました。下の形の古墳をなんというか調べてみましょう。(古墳を上から見た形です)




(前方後円墳)



(前方後方墳)



(方墳)



(円墳)



こふん ひゅつげん
古墳の出現

かひちょうむづか


まるやまづか

～甲斐銚子塚古墳と丸山塚古墳～

ふどき 風土記の丘の公園内にあり、国指定史跡しせきになっている甲斐銚子塚古墳と丸山塚古墳。この2つの大きな古墳について調べてみましょう。

1 山梨県で一番大きな古墳は甲斐銚子塚古墳です。

◎ 銚子塚古墳を上から見た形をかきましょう。何かの形に似ているかも。




◎ 銚子塚古墳の長さは何メートルでしょう。

(169) ㍎

◎ 一番高いところで高さは何メートルあるのかな？

(15) ㍎

◎ 丸山塚古墳を上から見た形をかきましょう。



◎ 丸山塚古墳の直径は何メートルでしょう。

(72) ㍎

◎ 高さは何メートルあるのかな？

(11) ㍎

2 古墳にほうむ葬られたごうぞく豪族の遺体が納められていた下の写真の部屋をなんというでしょうか。

(せき しつ 石 室)



甲斐銚子塚古墳のもの



丸山塚古墳のもの

学校見学用ワークシート⑩-2

3 甲斐銚子塚古墳から出土した下のものを見つけて、なまえを調べてみましょう。○には、ひらがなが入ります。



せ い どう き よ う

は に わ




も く せ い ひ ん

か い く し ろ

4 下の絵は甲斐銚子塚古墳の造られた当時をイメージして書いた絵です。絵からわかる古墳の様子をわかるだけ書いてみましょう。

- ・古墳のまわりに溝（みぞ）が張り巡らされている。
- ・古墳の側面に段がつけられている。
- ・古墳の側面や上部にたくさんのはにわが並べられている。
- ・古墳の側面を石で固めている。（葺石＝ふきいし）





こふんじだい

古墳時代のくらし～朝鮮半島からの文化～

ちょうせんはんとう

ぶんか

古墳時代に新たな文化が大陸から伝わりました。どんな新しい文化が伝わってきたのか調べてみましょう。

1 下の写真は、朝鮮半島から作り方が伝えられた硬い土器です。



◎ 何という土器でしょう。

(須恵器 (すえき))

◎ この土器は何色をしていますか。

(灰色)

◎ この土器は縄文土器や弥生土器とくらべてとてもかたく、色もちがいますが、これはやき方のちがいのためです。そのちがいは次のうちどれでしょう。2つえらんでみよう。

ア やくときの燃料がちがう ① かまでやく ㊦ やく温度がちがう

ア やくときの燃料がちがう

① かまでやく

㊦ やく温度がちがう

2 古墳時代には馬に乗る風習もとりいれられ、古墳の中からは馬につけていたどうぐも多く見られます。

◎ 下の写真の馬具ばぐが見つかった古墳は何という名前の古墳でしょうか。

(かんかん塚 (茶塚)) 古墳



◎ 左の写真の1～3のなまえを調べ、どのようにつかうものなのか下の記号から選んでみよう。

なまえ

記号

1 (くつわ) (B)

2 (さんかんれい 三環鈴) (C)

3 (あぶみ) (A)

A 馬に乗った人が足をかける

B たづなをつけるために、馬の口にかませる金具

C 馬の尻や胸につけるもの