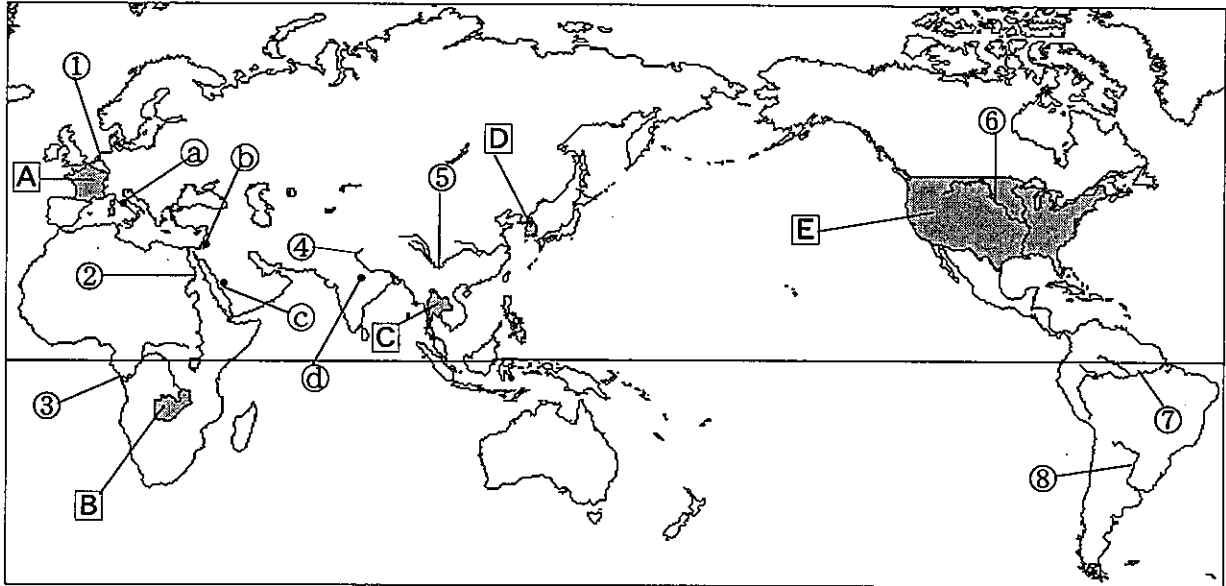


平成22年度採用 山梨県公立学校教員選考検査

中学校社会

1 次の略地図を見て、(1)～(6)に答えよ。



(1) 下の文章の にあてはまる都市名を記せ。また、その都市の位置を略地図の①～⑧から一つ選び、記号で記せ。

は、ムハンマドの生誕の地で、ムスリムにとって最も神聖な都市である。その中心は、大理石でつくられた壮大な聖モスクとその中庭にあっていつも黒い布でおおわれている四角いカアバ神殿である。

(2) 上の(1)の都市を聖地とするムスリムの日常生活の特徴を述べた文章として、最も適当なものを、次のア～エから一つ選び、記号で記せ。

- ア. 日曜日には、商店、官庁、学校などが休みになり、ほとんどの市民は家族でモスクへ礼拝に行く。
- イ. レストランのメニューには羊以外の肉を用いた料理がなく、またビールやワインを飲むことは禁じられている。
- ウ. 断食月(ラマダーン)の期間中は、人々は日の出から日没までの間、食事をとらない。
- エ. サリーはサウジアラビアなどの既婚女性の服装で、目だけを出すような恰好になる。女性は肌を出すことは禁じられている。

(3) 略地図の **B** 国など中南アフリカの国々の中には、モノカルチャー経済の国がある。モノカルチャー経済について、次の語句を使って説明せよ。

一次産品

国際価格

- (4) 表は、略地図の **A** ~ **E** 国の農業経済活動人口の割合、第一次産業従事者1人当たりの農地面積、穀物生産量を示したものである。**C** 国に該当するものを、表の **A** ~ **E** から一つ選び、記号で記せ。

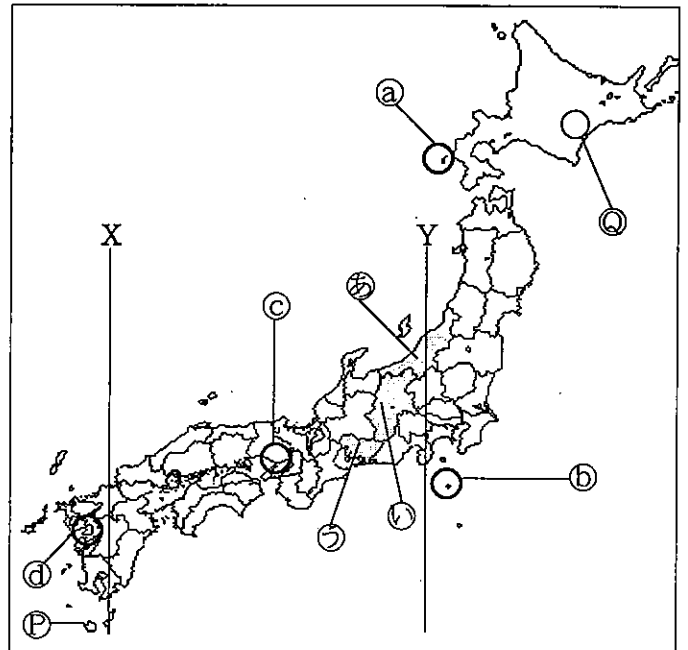
	農業経済活動人口の割合 (%)	第一次産業従事者1人当たりの農地面積 (ha)	穀物生産量 (千 t)
A	7.7	1.0	6,653
I	1.8	148.6	346,562
ウ	67.5	5.7	1,072
E	2.7	39.7	61,813
オ	53.3	0.9	33,146

(「世界国勢図会」2008/09年版より作成)

- (5) 略地図の **C** 国など東南アジアの国々の経済を開発し、域内の平和・安定を目指して1967年に設立された組織を何というか、アルファベットを使った略称で記せ。
- (6) 世界の河川について説明した下の **A** ~ **E** の文章にあてはまる河川を、略地図の①~⑧からそれぞれ一つ選び、番号で記せ。
- A.** 緩やかな流れは水運に適しており、中流域における19世紀の炭田開発をきっかけに大工業地帯が発達し、河口の港は現在、世界有数の貨物取扱量を誇っている。
 - I.** 流域にはセルバと呼ばれる熱帯林が広がっており、上流まで外洋船が航行可能である。
 - ウ.** 大きな流域面積をもち、内陸交通の動脈であるとともに、流域は世界的な農業地帯で、小説『トムソーヤの冒険』の舞台となった。
 - E.** 赤道付近に源を発し、北流して地中海に注ぐ大河で流域には古代文明の発祥地がある。また、河口付近には三角州が広がり綿花、小麦、トウモロコシなどの生産がさかんである。

2 次の略地図を見て、(1) ~ (5) に答えよ。

- (1) 略地図の **P** の島名を漢字で記せ。
- (2) 略地図の **X** と **Y** の経線の間には経度差があり、計算上は時差を求めることができる。**X** と **Y** の計算上の時差を記せ。
また、赤道上において経度1度の違いは、距離にしておよそ何 km の違いがあるか、記せ。
(**X** は東経131度、**Y** は東経139度)



(3) 略地図の㉑～㉔の地域は、1980年代以降に自然災害が発生したところである。㉑の地域に発生した災害に該当するものを、ア～エから一つ選び、記号で記せ。

- ア. 山頂付近に溶岩ドームが形成され、その崩落による火砕流によって多くの人命が失われた。
- イ. 沖合でおきた大地震によって、津波による被害を受けた。
- ウ. 活断層による大地震によって、市街地を中心に被害を受けた。
- エ. 噴火に伴う溶岩の流失や、有毒な火山ガスの噴出によって、多くの住民が避難した。

(4) 右の表は、略地図の㉕～㉗の県の人口の推移を示している。㉕及び㉖と、㉗の人口の推移は異なっている。異なっている理由を、1950年代半ばから1970年代前半までの経済の様子を含めて、20字以内で説明せよ。

(単位 千人)

年	㉕	㉖	㉗
1955	2,473	2,021	3,769
1960	2,442	1,981	4,206
1965	2,399	1,958	4,799
1970	2,361	1,957	5,386
1975	2,392	2,018	5,924
1980	2,451	2,084	6,222

(「数字でみる日本の百年」より作成)

(5) 下は、略地図の㉘の地域に広がる平野についてまとめた板書の一部である。板書の①、②にあてはまる語句を記せ。

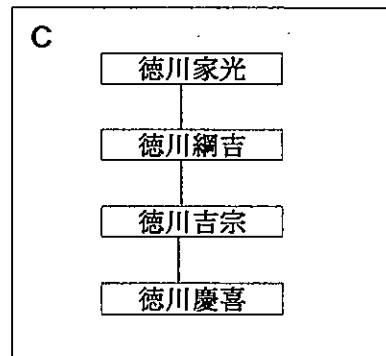
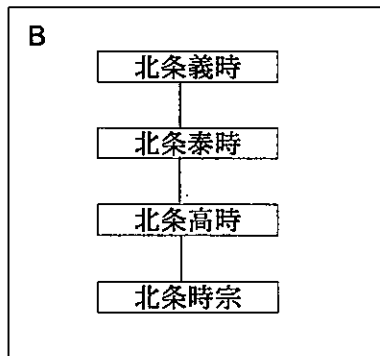
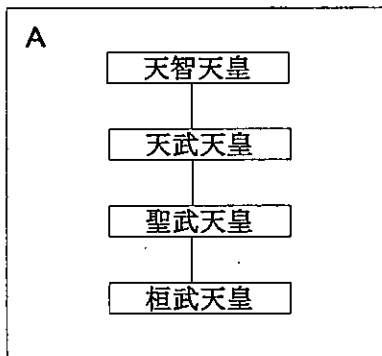
○北海道南東部、十勝川の中・下流に広がる平野

- ◇広大な (①) 台地—更新世に堆積した地層からなる台地
- ◇河谷沿いは沖積平野—沖積世の堆積物からなる平野

○酪農、畑作がさかん

- └ 作物…豆類, (②), 麦類, ジャガイモなど
- ※ (②) = 砂糖大根ともいい, 砂糖の原料

3 次の(1)～(7)に答えよ。



(1) 略系図A～Cは、それぞれ人物を上から古い順に並べてあるが、一つだけ順序が誤っている略系図がある。この略系図をA～Cから一つ選び、記号で記せ。

(2) 略系図Aの聖武天皇は、疫病の流行や政情不安から都をいくつか移した。次のア～エから聖武天皇が都として定めなかったものを、一つ選び、記号で記せ。

ア. 長岡京 イ. 恭仁京 ウ. 難波京 エ. 紫香楽京

(3) 略系図Bの北条時宗が執権であるとき、蒙古襲来がおこった。この非常事態を通して北条氏の力が一層強まり、やがて北条氏の家督を継ぐ総領家が絶対的な権力をもって幕政を行うようになった。このことを何というか、記せ。

(4) 下のア～エのカードは、江戸時代の4人の人物が行った政治改革をそれぞれまとめたものである。略系図Cの徳川吉宗が行った改革にあたるものはどれか、一つ選び、記号で記せ。

<p>ア</p> <ul style="list-style-type: none"> ・株仲間の公認 ・印旛沼の干拓 ・長崎貿易の振興 ・蝦夷地開発計画 	<p>イ</p> <ul style="list-style-type: none"> ・社倉、義倉づくり ・棄えん令 ・旧里帰農令 ・人足寄場をおく 	<p>ウ</p> <ul style="list-style-type: none"> ・風俗取締令 ・株仲間の解散 ・人返しの法 ・上知令 	<p>エ</p> <ul style="list-style-type: none"> ・上げ米 ・足高の制 ・相対済し令 ・実学のすすめ
--	--	---	--

(5) 甲府藩15万石の領主となった柳沢吉保が仕えた将軍の名を略系図Cから1人選び、記せ。

(6) 次の表は、第二次護憲運動で中心となり活動した政党名とその党首名を示したものである。この三つの政党中で、1925年に普通選挙法を成立させた時、第一党となり内閣総理大臣を出した政党を一つ選び、記せ。

政党名	党首名
立憲政友会	高橋是清
憲政会	加藤高明
革新倶楽部	犬養毅

また、表の3人の人物のうち、のちに五・一五事件と二・二六事件で暗殺された人物は何人いるか、記せ。

(7) 海軍軍令部や国家主義者、立憲政友会などは、日本政府が反対を押し切って1930年にロンドン海軍軍縮条約を締結し兵力量を決定したのは、天皇大権をおかすものであるとして政府を攻撃した。この問題を何というか、記せ。

4 次の(1)～(6)に答えよ。

(1) 歴史の父とよばれ、ペルシャ戦争を主題に、自らの大旅行での見聞を交えた『歴史』を著した人物の名前を記せ。

(2) 下は中国の歴代王朝を示したものである。この中から漢民族以外の異民族が中国を征服して建国した王朝名をすべて記せ。

漢 → 晋 → 隋 → 唐 → 宋 → 元 → 明 → 清

(3) イギリスで1688年に議会と国教会が一致して国王ジェームズ2世を追放したできごとを何というか、記せ。

- (4) 中国の農民反乱を示した下のア～エを古い順に並べ替えよ。
 ア. 陳勝・呉広の乱 イ. 黄巢の乱 ウ. 紅巾の乱 エ. 黄巾の乱
- (5) 1929年に起こった世界恐慌の対策として、イギリスやフランスが行った経済政策を記せ。
- (6) 次の図は、第二次世界大戦後、対立した国を示している。このような状態になった原因を説明せよ。

ドイツ連邦共和国 ↔ ドイツ民主共和国

ベトナム共和国 ↔ ベトナム民主共和国

5 次の(1)～(5)に答えよ。

- (1) 我が国の憲法は、「抑制と均衡」を重視する三権分立制を採用しているといわれている。国会と内閣の間における「抑制と均衡」を実現する憲法上の制度を二つ記せ。
- (2) 次の憲法の条文の にあてはまる語句を記せ。

第33条 何人も、 として逮捕される場合を除いては、権限を有する司法官憲が発し、且つ理由となつてゐる犯罪を明示する令状によらなければ、逮捕されない。

- (3) 下の文章はわが国の裁判制度についてまとめたものである。次のア～エから誤っているものを一つ選び、記号で記せ。
- ア. 慎重な裁判を行うために、原則として同一の事件について訴訟当事者は3回の裁判の機会がある。
- イ. 刑事裁判では、被告人は貧困などの理由がある場合は、国がその費用を負担して、弁護人を付けた裁判を受けることができる。
- ウ. 裁判は、具体的な事件を通じて当事者間の権利義務や法律関係を明らかにするために行われる。
- エ. 行政庁によって違法な処分がなされた場合は、裁判所ではなく、すべて行政委員会の裁定で解決される。
- (4) 国際法においては、「領海の外にある公海を商船が航行することは自由である」という原則が認められている。この原則を記せ。

- (5) 右の年表は第二次世界大戦後に世界でおこったおもな内戦を示している。この中でアフリカでおこった内戦はいくつあるか、記せ。

年	できごと
1967	ビアフラ内戦がおこる
1975	アンゴラ内戦がおこる
1984	エルサルバドル内戦がおこる
1989	ルワンダ内戦がおこる
1991	ユーゴスラビア内戦がおこる
1992	タジキスタン内戦がおこる

- 6 次の(1)～(5)に答えよ。

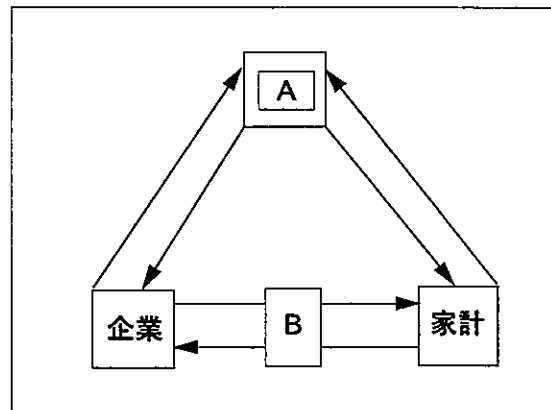
- (1) 下の文章の **A** には、あてはまる人物名を、 **B** には、あてはまる語句を記せ。

イギリスの経済学者 **A** は、個人や企業の自由な経済活動が神の「見えざる手」に導かれて公共の利益を促進するとし、政府が経済に干渉しない **B** 主義を唱えた。

- (2) 所得から税金や社会保険料を差し引いた残りの部分を何というか、記せ。

- (3) 下の図は、経済の三つの主体の関係を示している。図中の **A** にあてはまる語句を記せ。また、家計と企業との関係を示した次のア～エから **B** にあてはまらないものを、一つ選び、記号で記せ。

- ア. 商品（財貨・サービス）の購入
- イ. 賃金・配当・地代
- ウ. 労働・資本・土地
- エ. 社会保障・公共サービス



- (4) 円とドルとの為替レートが1ドル=100円で均衡している状態から、仮に日本とアメリカの物価指数が次の表のように変化したとき、購買力平価説に立てば、為替レートは1ドル何円になるか、記せ。

	当初の物価指数	変化後の物価指数
日本	100	200
アメリカ	100	250

- (5) 1995年までに、先進国のフロン生産と消費を全廃することを決めた取り決めを何というか、記せ。